

**KONKURS M L M**  
**ŁAMIGŁÓWKA MATEMATYCZNA NR 6**

Imię i nazwisko..... klasa.....

Rozwiąż zadanie i wybierz prawidłową odpowiedź:

**Zadanie 1.**

Św. Mikołaj zapisywał jakie prezenty chciałyby otrzymać dzieci. Przy każdym prezencie zapisał numer zgłoszenia, ale nie zanotował imion dzieci. Pomóż Mikołajowi rozwiązać tę zagadkę i dobrać właściwy prezent dla każdego dziecka wiedząc, że:

- numer prezentu Stasia jest podzielny przez 3,
- prezent Marysi jest liczbą nieparzystą,
- iloczyn cyfr prezentu Zosi wynosi 36,
- suma cyfr w liczbie prezentu Jasia wynosi 9,
- Basi prezent ma najmniejszą cyfrę w rzędzie jedności.

łyżworolki/18 książka/81 samochódzik/24 piórniki/49 pluszowy żółw/65

Pod prezentami umieść imiona dzieci. .

**Zadanie 2.**

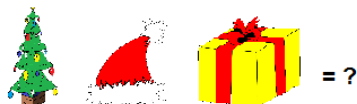


Z pewną prawidłowością nadano numery poszczególnym imionom :

**Fircyk – 20, Elf – 15, Amorek – 15, Rudolf – 20,**

Jaki numer będzie miało imię **Profesorek**?

A) 15 B) 20 C) 25 D) 30

**Zadanie 3**



**Zadanie 4.**

Św. Mikołaj pakował prezenty. W pięciu workach umieścił 35 prezentów w taki sposób, aby w każdym worku była różna ilość prezentów, a różnica wynosiła 1. Ile prezentów znajduje się w poszczególnych workach? Zapisz liczbę prezentów w każdym worku.

**Powodzenia!**