

**KONKURS M L M**  
**ŁAMIGŁÓWKA MATEMATYCZNA NR 8(1)**

Imię i nazwisko..... klasa.....

Zadanie 1.

**Inteligentne ciągi**










Liczby każdego ciągu wypisane są według pewnej reguły. Odkryj tę regułę i wpisz w wolne pola, kolejne dwie liczby (wyrazy) tego ciągu.

I. 16, 11, 22, 17, 34, 29, 58, ..., ... ;

II. 1, 1, 2, 3, 5, 8, 13, ....., .....

Zadanie 2.

Ustal jakie cyfry schowały się za obrazkami zwierząt:

			<b>66</b>
			<b>80</b>
			<b>74</b>
<b>70</b>	<b>80</b>	<b>70</b>	

Rys. owcy to:

a) 22 b) 24 c) 28 d) 30

Zadanie 3.

16, 9, 5, 18 pasuje tak do słowa „pies”

jak 18, 23, 1, 3, 8, 22 do słowa:

a) szatnia b) szkoła c) szachy d) szuflada

Zadanie 4.

Pociąg dojeżdża na miejsce o 12:45, a był w drodze łącznie 355 minut. O której godzinie wyjechał?

a) 6:15 b) 6:55 c) 18:40 d) 6:50

**Powodzenia!**