

ROZWIĄZANIE ŁAMIGŁÓWKI MATEMATYCZNEJ NR 8

Zadanie 1.

Inteligentne ciągi










Liczby każdego ciągu wypisane są według pewnej reguły. Odkryj tę regułę i wpisz w wolne pola, kolejne dwie liczby (wyrazy) tego ciągu.

I. 16, 11, 22, 17, 34, 29, 58, **53, 106**;

II. 1, 1, 2, 3, 5, 8, 13, **21, 34** ;

Zadanie 2.

Ustal jakie cyfry schowały się za obrazkami zwierząt:

			66
			80
			74
70	80	70	

Rys. owcy to:

a) 22 b) 24 c) 28 **d) 30**

Zadanie 3.

16, 9, 5, 18 pasuje tak do słowa „ pies”

jak 18, 23, 1, 3, 8, 22 do słowa:

a) szatnia b) szkoła **c) szachy** d) szuflada

Zadanie 4.

Pociąg dojeżdża na miejsce o 12:45, a był w drodze łącznie 355 minut. O której godzinie wyjechał?

a) 6:15 b) 6:55 c) 18:40 **d) 6:50**